

ふたけたのひきざん

T プレスからスタート

クッキーが48こあります。12こたべました。
なんこのこっていますか。

①しきを書こう

$$\begin{array}{r} \text{しき} \quad 48 - 12 = 36 \\ \hline \end{array}$$

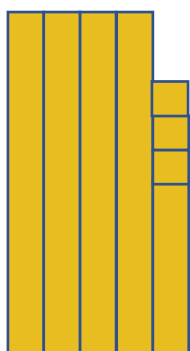
②ひっさんを書こう

③けいさんをしよう

$$\begin{array}{r} + \quad 48 \\ \quad 12 \\ \hline \quad 36 \end{array}$$


③こたえを書こう

36こ



48こ

12こたべる



36こ

①

$$\begin{array}{r} 38 \\ - 16 \\ \hline 22 \end{array}$$

②

$$\begin{array}{r} 42 \\ - 12 \\ \hline 30 \end{array}$$

③

$$\begin{array}{r} 69 \\ - 5 \\ \hline 64 \end{array}$$

けいさん れんしゅう ひっさん するよ！

① $48 - 34 =$

② $89 - 22 =$

③ $67 - 41 =$

④ $98 - 66 =$

⑤ $63 - 23 =$

⑥ $84 - 60 =$

⑦ $58 - 2 =$

⑧ $97 - 5 =$

⑨ $36 - 20 =$

⑩ $90 - 70 =$

⑪ $24 - 21 =$

⑫ $66 - 60 =$

⑬ $20 - 10 =$

⑭ $95 - 94 =$

⑮ $17 - 14 =$

⑯ $90 - 0 =$

ふたけたのひきざん 2

T プレスからスタート

けいさん れんしゅう

ひっさん するよ！ のこたえあわせ

① $48 - 34 = 14$

② $89 - 22 = 67$

③ $67 - 41 = 26$

④ $98 - 66 = 32$

⑤ $63 - 23 = 40$

⑥ $84 - 60 = 24$

⑦ $58 - 2 = 56$

⑧ $97 - 5 = 92$

⑨ $36 - 20 = 16$

⑩ $90 - 70 = 20$

⑪ $24 - 21 = 3$

⑫ $66 - 60 = 6$

⑬ $20 - 10 = 10$

⑭ $95 - 94 = 1$

⑮ $17 - 14 = 3$

⑯ $90 - 0 = 90$

45 - 28 = のけいさんをしよう！

$$\begin{array}{r} 45 \\ - 28 \\ \hline \end{array}$$

5 - 8 = ???

できないよ~

でも、
大じょうぶ
!!!

$$\begin{array}{r} 3 \\ \cancel{4}5 \\ - 28 \\ \hline 17 \end{array}$$

①十のくらいから
1くり下げる。

②十のくらいは3になる

でも、十のくらいから、
かりてきているから10



③一のくらいのけいさんは
 $15 - 8 = 7$

④十のくらいは
 $3 - 2 = 1$

①

$$\begin{array}{r}
 \cancel{5} 2 8 \\
 - \\
 \hline
 2 4
 \end{array}$$

4

10

②

$$\begin{array}{r}
 \cancel{6} 1 0 \\
 - \\
 \hline
 2 5
 \end{array}$$

5

10

③

$$\begin{array}{r}
 \cancel{3} 3 0 \\
 - \\
 \hline
 1 9
 \end{array}$$

2

10

④

$$\begin{array}{r}
 \cancel{4} 0 0 \\
 - \\
 \hline
 2 3
 \end{array}$$

3

10

⑤

$$\begin{array}{r}
 \cancel{8} 4 0 \\
 - \\
 \hline
 7 8
 \end{array}$$

7

10

⑥

$$\begin{array}{r}
 \cancel{2} 0 0 \\
 - \\
 \hline
 1 5
 \end{array}$$

1

10

けいさん れんしゅう ひっさん するよ!

① $62 - 18 =$

② $94 - 39 =$

③ $71 - 52 =$

④ $85 - 46 =$

⑤ $53 - 27 =$

⑥ $84 - 75 =$

⑦ $90 - 51 =$

⑧ $81 - 3 =$

かみが45まいあります。28まいつかいました。
なんまいのこっていますか。

①しきを書こう

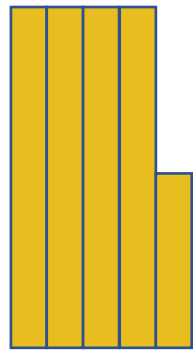
$$\begin{array}{r} \text{しき} \quad 45 - 28 = 17 \\ \hline \end{array}$$

②ひっさんを書こう
③けいさんをしよう

$$\begin{array}{r} + \quad 45 \\ \quad 28 \\ \hline \quad 17 \end{array}$$

③こたえを書こう

17まい



45こ

28まいつかう



17こ